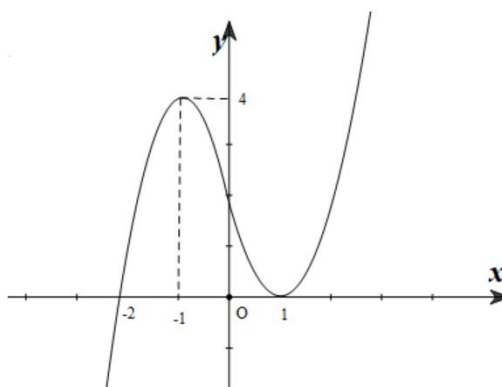


Họ, tên thí sinh:..... Số báo danh:

Câu 1: Phương trình $\log_2(x+1) = 4$ có nghiệm là

- A. $x = 15$. B. $x = 6$. C. $x = 4$. D. $x = 3$.

Câu 2: Cho hàm số $f(x) = ax^4 + bx^3 + cx^2 + dx + e (a \neq 0)$. Biết rằng hàm số $f(x)$ có đạo hàm là $f'(x)$ và hàm số $y = f'(x)$ có đồ thị như hình vẽ dưới. Hàm số nghịch biến trên



- A. khoảng $(-\infty; -2)$. B. khoảng $(0; 1)$. C. khoảng $(-1; 1)$. D. khoảng $(1; +\infty)$.

Câu 3: Cho hàm số $y = f(x) = 2x^3 - 3x^2 + 1$. Có bao nhiêu giá trị nguyên của tham số m để phương trình $f\left(f\left(\frac{2\sin x + 1}{2}\right)\right) = f(m)$ có nghiệm.

- A. 2. B. 4. C. 3. D. 1.

Câu 4: Khẳng định nào sau đây là sai ?

- A. Thể tích của khối chóp có diện tích đáy B và chiều cao h là $V = \frac{1}{3}Bh$.
 B. Thể tích của khối lăng trụ có diện tích đáy B và chiều cao h là $V = Bh$.
 C. Thể tích của một khối hộp chữ nhật bằng tích ba kích thước của nó.
 D. Thể tích của khối chóp có diện tích đáy B và chiều cao h là $V = 3Bh$.

Câu 5: Cho hàm số $f(x) = |x^3 - 15x + 2m| + 12x - m$. Giá trị nhỏ nhất của $M = \max_{[-2;3]} f(x)$ bằng

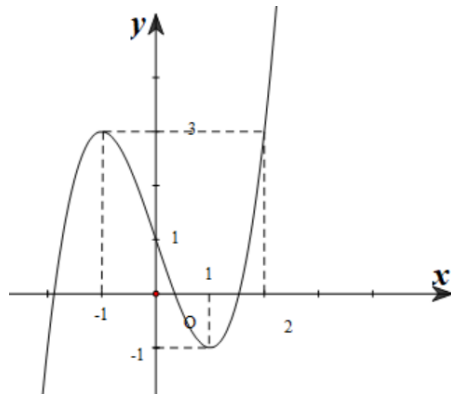
- A. 36. B. 25. C. 9. D. 27.

Câu 6: Cho hình nón có bán kính đáy bằng a , đường cao là $2a$. Tính diện tích xung quanh hình nón?

- A. $2\sqrt{5}\pi a^2$. B. $\sqrt{5}\pi a^2$. C. $2a^2$. D. $5a^2$.

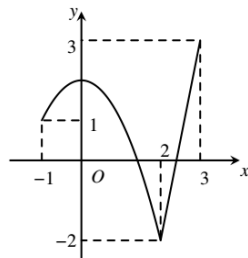
Câu 7: Cho hàm số $y = f(x)$ liên tục trên \mathbb{R} và có đồ thị như hình vẽ dưới. Xét hàm số

$g(x) = f(2x^3 + x - 1) + m$. Tìm m để $\max_{[0;1]} g(x) = -10$



- A. $m = 5$. B. $m = -13$. C. $m = 3$. D. $m = -1$.

Câu 8: Cho hàm số $y = f(x)$ liên tục trên $[-1;3]$ và có đồ thị như hình vẽ. Gọi M và m lần lượt là giá trị lớn nhất, giá trị nhỏ nhất của hàm số đã cho trên $[-1;3]$. Giá trị $M.m$ bằng



- A. -3 . B. 1 . C. -6 . D. 0 .

Câu 9: Cho phương trình $3^{x^2+x} = 9$, tổng các nghiệm thực của phương trình là

- A. -3 . B. -1 . C. 3 . D. 1 .

Câu 10: Cho hàm số $f(x)$ thỏa mãn $f'(x) = e^x - x$ và $f(0) = 1$. Tìm hàm số $f(x)$.

- A. $f(x) = e^{x+1} - \frac{x^2}{2} + C$. B. $f(x) = e^x - x^2$. C. $f(x) = e^x - \frac{x^2}{2} + 1$. D. $f(x) = e^x - \frac{x^2}{2}$.

Câu 11: Một tổ có 15 học sinh. Hỏi có bao nhiêu cách chọn 3 học sinh trong tổ làm nhiệm vụ trực nhật?

- A. 2730. B. 455. C. 6. D. 45.

Câu 12: Tập nghiệm của bất phương trình $\log_2(x-3) + \log_2(x-2) \leq 1$ là

- A. $(3;4)$. B. $[1;4]$. C. $(1;4)$. D. $(3;4]$.

Câu 13: Cho hàm số $y = f(x)$ xác định và liên tục trên \mathbb{R} , có bảng biến thiên như hình sau

x	$-\infty$	-1	1	2	$+\infty$		
y'	$-$	\parallel	$+$	0	$+$	\parallel	$-$
y	$+\infty$				2		$+\infty$

\swarrow \nearrow \searrow
 -3 $+\infty$

Điểm cực tiểu của hàm số là

- A. $x = -1$. B. $x = 2$. C. $x = 1$. D. $y = -3$.

Câu 14: Diện tích xung quanh của hình nón có độ dài đường sinh l và bán kính đáy r bằng

- A. $4\pi rl$. B. $2\pi rl$. C. πrl . D. $\frac{1}{3}\pi rl$.

Câu 15: Cho hàm số $y = f(x) = ax^4 + bx^2 + c (a \neq 0)$ có bảng biến thiên dưới đây

x	$-\infty$	-1	0	1	$+\infty$
y'		$+$	$-$	$+$	$-$
y		2	1	2	

Số nghiệm của phương trình $f(x) = \frac{3}{2}$ là

- A. 3. B. 4. C. 2. D. 1.

Câu 16: Cho $a > 0, a \neq 1$, giá trị của biểu thức $D = \log_{a^3} \sqrt{a}$ bằng

- A. $\frac{1}{6}$. B. -6 . C. 6. D. $-\frac{1}{6}$.

Câu 17: Bất phương trình $2^{x^2+1} > 2^{2x+1}$ có tập nghiệm là

- A. \mathbb{R} . B. $(-2; 0)$. C. $(0; 2)$. D. $(-\infty; 0) \cup (2; +\infty)$.

Câu 18: Hàm số $y = (x+1)^{-5}$ có tập xác là

- A. $\mathbb{R} \setminus \{-1\}$. B. $(-1; +\infty)$. C. \mathbb{R} . D. $(-\infty; -1)$.

Câu 19: Có tất cả bao nhiêu giá trị nguyên của tham số m để hàm số $y = mx^4 + (m-6)x^2 + 2022$ có ba điểm cực trị?

- A. 5. B. 7. C. 4. D. 6.

Câu 20: Nghiệm của phương trình $2^{x-1} = 8$ là

- A. $x = 5$. B. $x = 3$. C. $x = 4$. D. $x = 2$.

Câu 21: Cho khối lăng trụ có diện tích đáy bằng $a^2\sqrt{3}$, khoảng cách giữa hai đáy của lăng trụ bằng $a\sqrt{6}$. Tính thể tích V của khối lăng trụ.

- A. $V = \frac{3a^3\sqrt{2}}{4}$. B. $V = a^3\sqrt{2}$. C. $V = \frac{a^3\sqrt{2}}{3}$. D. $V = 3a^3\sqrt{2}$.

Câu 22: Một khu rừng có trữ lượng gỗ là $3 \cdot 10^{10}$ mét khối. Biết tốc độ sinh trưởng của các cây trong khu rừng đó là 4% mỗi năm. Nếu hàng năm không khai thác thì sau 10 năm khu rừng đó có bao nhiêu mét khối gỗ?

- A. $3 \cdot (10,4)^8$. B. $3 \cdot 14^8$. C. $3 \cdot 14^{10}$. D. $3 \cdot (10,4)^{10}$.

Câu 23: Có tất cả bao nhiêu khối đa diện đều ?

- A. 7. B. 5. C. 4. D. 6.

Câu 24: Có bao nhiêu giá trị nguyên của tham số m thuộc đoạn $[-10; 10]$ để hàm số

$$y = \frac{\cos x + m}{\cos x + 2} \text{ đồng biến trên khoảng } \left(0; \frac{\pi}{2}\right)?$$

- A. 9. B. 10. C. 8. D. 7.

Câu 25: Gọi S là tập hợp các giá trị của tham số m để có duy nhất một cặp số $(x; y)$ thỏa mãn $\log_{x^2+y^2+2} (2x-4y+m) \geq 1$ và $x+y-2m=0$. Tính tổng các phần tử trong tập S .

- A. $-\frac{1}{2}$. B. $-\frac{5}{4}$. C. 0. D. $-\frac{1}{4}$.

Câu 26: Cho hàm số $y = x^3 + 6x + 7$. Giá trị lớn nhất của hàm số trên đoạn $[-5; 0]$ bằng

- A. 80. B. 5. C. 7. D. -148.

Câu 27: Tập xác định của hàm số $y = \log_2(5 - x)$ là

- A. $D = \mathbb{R} \setminus \{5\}$. B. $D = (-\infty; 5)$. C. $D = (0; +\infty)$. D. $D = (5; +\infty)$.

Câu 28: Kết quả $\int x^4 dx$ bằng

- A. $4x^3 + C$. B. $\frac{1}{5}x^5 + C$. C. $\frac{1}{5}x^4$. D. $4x^4 + C$.

Câu 29: Tiệm cận đứng của đồ thị hàm số $y = \frac{2x+1}{2x-1}$ là

- A. $y = 1$. B. $y = \frac{1}{2}$. C. $x = 1$. D. $x = \frac{1}{2}$.

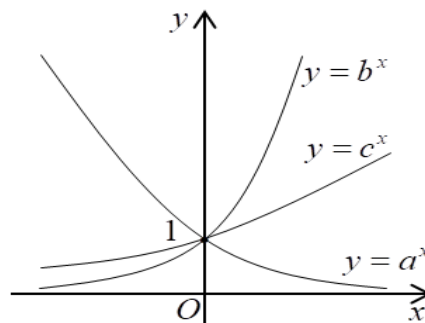
Câu 30: Hàm số nào dưới đây đồng biến trên \mathbb{R} ?

- A. $y = x^4 - 2x^2 - 1$. B. $y = \frac{x-1}{x+2}$. C. $y = \frac{1}{3}x^3 - \frac{1}{2}x^2 + 3x + 1$. D. $y = x^3 + 4x^2 + 3x - 1$.

Câu 31: Chọn ngẫu nhiên ba số a, b, c trong tập hợp $S = \{1; 2; \dots; 26\}$. Tính xác suất để ba số chọn ra thỏa mãn $a^2 + b^2 + c^2$ chia hết cho 5.

- A. $\frac{21}{65}$. B. $\frac{7}{65}$. C. $\frac{11}{65}$. D. $\frac{14}{65}$.

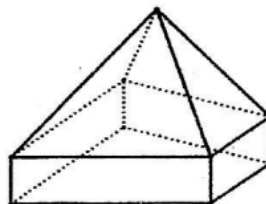
Câu 32: Cho ba số thực dương a, b, c khác 1.



Đồ thị các hàm số $y = a^x$, $y = b^x$ và $y = c^x$ được cho như hình vẽ trên. Mệnh đề nào dưới đây **đúng**?

- A. $1 < a < c < b$. B. $0 < a < 1 < b < c$. C. $1 < a < b < c$. D. $0 < a < 1 < c < b$.

Câu 33: Hình đa diện sau có bao nhiêu cạnh?



- A. 15. B. 12 C. 20 D. 16.

Câu 34: Cho hình chóp $S.ABCD$ có đáy $ABCD$ là hình chữ nhật $AB = a$ và $AD = 2a$, cạnh bên SA vuông góc với đáy. Tính thể tích V của khối chóp $S.ABCD$ biết góc giữa hai mặt phẳng (SBD) và $(ABCD)$ bằng 60° .

A. $V = \frac{a^3\sqrt{15}}{6}$. B. $V = \frac{a^3\sqrt{15}}{15}$. C. $V = \frac{4a^3\sqrt{15}}{15}$. D. $V = \frac{a^3\sqrt{15}}{3}$.

Câu 35: Cho hàm số $y = f(x)$ liên tục trên \mathbb{R} và có đạo hàm $f'(x) = x(x-1)^{2021}(x-2)^{2022}$. Số điểm cực trị của hàm số là

- A. 1. B. 2. C. 4. D. 3.

Câu 36: Thể tích của khối chóp có diện tích đáy bằng $\frac{\sqrt{3}}{2}$ và chiều cao bằng $\frac{2\sqrt{3}}{3}$ là

A. $\frac{\sqrt{6}}{6}$. B. $\frac{1}{3}$. C. $\frac{\sqrt{2}}{3}$. D. 1.

Câu 37: Thể tích của khối cầu bán kính R bằng

A. $\frac{3}{4}\pi R^3$. B. $\frac{4}{3}\pi R^3$. C. $4\pi R^2$. D. $2\pi R^3$.

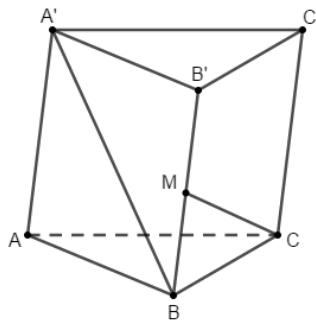
Câu 38: Cho hình chóp $S.ABC$. Gọi M, N, P lần lượt là trung điểm của SA, SB, SC . Tỉ số thể tích $\frac{V_{S.ABC}}{V_{S.MNP}}$ bằng

- A. 12. B. 2. C. 8. D. 3.

Câu 39: Cho hình hộp chữ nhật $ABCD.A'B'C'D'$, biết đáy $ABCD$ là hình vuông. Tính góc giữa $A'C$ và BD .

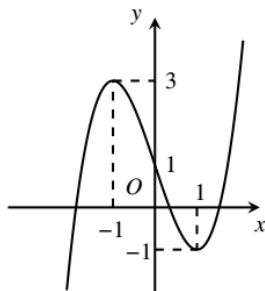
- A. 45° . B. 30° . C. 60° . D. 90° .

Câu 40: Cho hình lăng trụ tam giác $ABC.A'B'C'$ có đáy là tam giác vuông tại A , $AB = 2$, $AC = \sqrt{3}$. Góc $CAA' = 90^\circ$, $BAA' = 120^\circ$. Gọi M là trung điểm cạnh BB' (tham khảo hình vẽ). Biết CM vuông góc với $A'B$, tính thể tích khối lăng trụ đã cho.



A. $V = \frac{3(1+\sqrt{33})}{8}$. B. $V = \frac{1+\sqrt{33}}{8}$. C. $V = \frac{3(1+\sqrt{33})}{4}$. D. $V = \frac{1+\sqrt{33}}{4}$.

Câu 41: Đường cong trong hình vẽ là đồ thị của hàm số nào dưới đây?



A. $y = x^3 - 3x + 1$. B. $y = x^3 - 3x + 3$. C. $y = -x^3 + 3x + 1$. D. $y = x^3 - 3x$.

Câu 42: Cho hình chóp đều $S.ABCD$, cạnh đáy bằng a , góc giữa mặt bên và mặt đáy là 60° . Tính khoảng cách từ điểm B đến mặt phẳng (SCD) .

- A. $\frac{a}{4}$. B. $\frac{a\sqrt{3}}{4}$. C. $\frac{a\sqrt{3}}{2}$. D. $\frac{a}{2}$.

Câu 43: Họ tất cả nguyên hàm của hàm số $f(x) = \sin 2x$ là

- A. $-\frac{1}{2}\sin 2x + C$. B. $-2\sin 2x + C$. C. $-\frac{1}{2}\cos 2x + C$. D. $2\cos 2x + C$.

Câu 44: Cho hình chóp $S.ABC$ có đáy ABC là tam giác vuông cân tại B , $AB = BC = 3a\sqrt{2}$, $SAB = SCB = 90^\circ$. Biết khoảng cách từ A đến mặt phẳng (SBC) bằng $2a\sqrt{3}$. Tính thể tích mặt cầu ngoại tiếp hình chóp $S.ABC$.

- A. $72\sqrt{2}\pi a^3$. B. $18\sqrt{2}\pi a^3$. C. $72\sqrt{18}\pi a^3$. D. $54\sqrt{2}\pi a^3$.

Câu 45: Cho hình nón đỉnh S , đường cao SO , A và B là hai điểm thuộc đường tròn đáy sao cho khoảng cách từ O đến (SAB) bằng $\frac{a\sqrt{3}}{3}$ và $SAO = 30^\circ, SAB = 60^\circ$. Độ dài đường sinh của hình nón theo a bằng

- A. $a\sqrt{2}$. B. $a\sqrt{3}$. C. $2a\sqrt{3}$. D. $a\sqrt{5}$.

Câu 46: Diện tích xung quanh của hình trụ có độ dài đường sinh l và bán kính đáy r bằng

- A. $4\pi rl$. B. πrl . C. $\frac{1}{3}\pi rl$. D. $2\pi rl$.

Câu 47: Hình trụ có bán kính đáy bằng a và chiều cao bằng $a\sqrt{3}$. Khi đó diện tích toàn phần của hình trụ bằng

- A. $2\pi a^2(\sqrt{3}-1)$. B. $\pi a^2(1+\sqrt{3})$. C. $\pi a^2\sqrt{3}$. D. $2\pi a^2(1+\sqrt{3})$.

Câu 48: Đạo hàm của hàm số $y = \log_3(x^2 + 2x)$ là

- A. $\frac{1}{(x^2 + 2x)\ln 3}$. B. $\frac{2x + 2}{(x^2 + 2x)\ln 3}$. C. $\frac{3}{x^2 + 2x}$. D. $\frac{(2x + 2)\ln 3}{x^2 + 2x}$.

Câu 49: Tiệm cận ngang của đồ thị hàm số $y = \frac{3x - 2}{4 - x}$ là

- A. $y = -3$. B. $y = 2$. C. $x = -3$. D. $y = \frac{3}{4}$.

Câu 50: Cho hàm số $f(x)$ có đạo hàm liên tục trên R thỏa mãn $f'(x) + (x + 1)f(x) = 3x^2$ và $f(0) = 1$. Đồ thị hàm số $y = f(x)$ cắt đường thẳng $y = 1$ tại bao nhiêu điểm?

- A. 1. B. 3. C. 2. D. 4.

----- HẾT -----